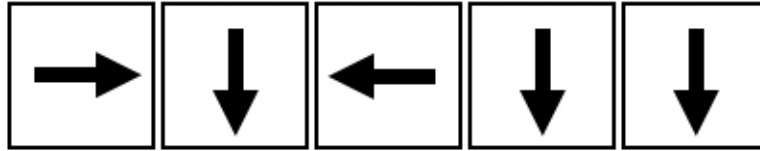
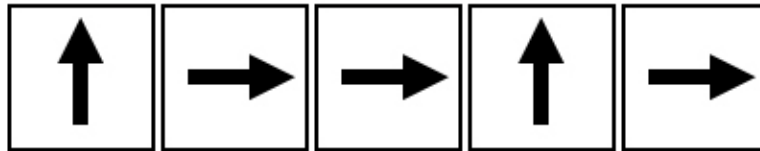


## Arbeitsblatt 2: Ein einfaches Programm

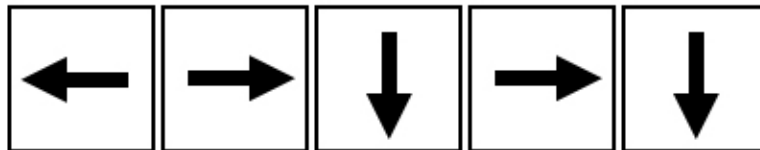
Grüner Parcours (ab erstem Feld oben links)




Blauer Parcours (ab grünem Punkt)



Roter Parcours (ab blauem Punkt)



**Aufgabe:** Der Kobold startet im oberen linken Feld. Er folgt zunächst den Anweisungen des grünen Programms. Markiere das Feld, in dem der Kobold landet, mit einem grünen Punkt. Von diesem Feld aus folgt der Kobold den Anweisungen des blauen Programms. Markiere das Feld, in dem er nun ankommt, mit einem blauen Punkt. Zum Schluss gehorcht der Kobold dem roten Programm. Markiere seine Endposition mit einem roten Punkt.